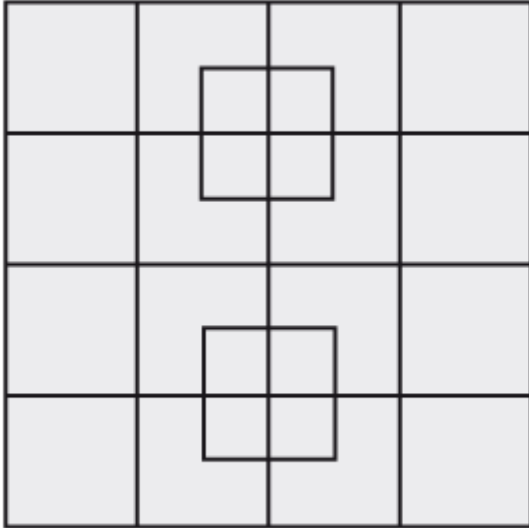
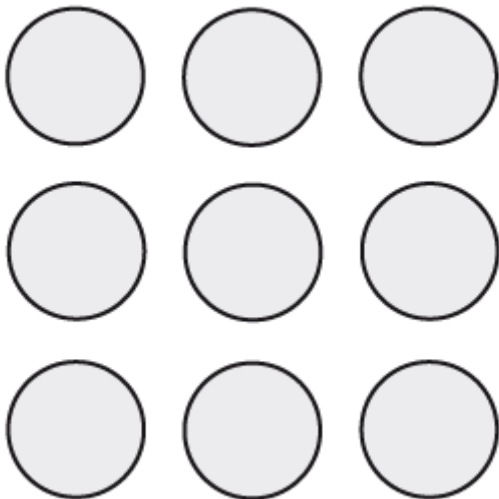


ENIGMES VISUELLES

Combien y'a t-il de carrés dans cette image ?



Relier les 9 points à l'aide de 4 droites, sans jamais lever le crayon.



Placez les chiffres 1 – 2 – 3 – 4 – 5 – 6 – 7 – 8 – 9 dans la grille de manière à ce que la somme des chiffres de chaque ligne, chaque colonne, et chaque diagonale soit égale à 15.

?	?	?
?	?	?
?	?	?


6 verres sont alignés. Les 3 premiers sont remplis et les 3 derniers sont vides.

En ne manipulant qu'un seul verre, comment faire alterner les verres vides avec les verres pleins ?



Voici 5 carrés formés par 16 allumettes.

Est-il possible de former 4 carrés en ne déplaçant que 3 allumettes ?



En ne déplaçant qu'une seule allumette de l'équation ci-dessus, serez-vous capable d'obtenir 139 ?

